

Session 2020

CERTIFICAT D'APTITUDE PROFESSIONNELLE

FLEURISTE

EP1

PREPARATION ET CONFECTION D'UNE PRODUCTION FLORALE

PARTIE ECRITE

SUJET

Durée : 2 H 30

Ce sujet se compose de 21 pages numérotées de 1/21 à 21/21
Dès que le sujet vous est remis, assurez-vous qu'il est complet.

L'usage de la calculatrice n'est pas autorisé.

Aucun document n'est autorisé.

Le dossier doit être remis dans intégralité à la fin de l'épreuve dans une copie anonymée.

CERTIFICAT D'APTITUDE PROFESSIONNELLE FLEURISTE	2006-CAP FLEUR EP1
EP1 (UP1) : Préparation et confection d'une production florale	Session 2020
Épreuve écrite : 2 heures 30	Coefficient : 6
	Page 1/21

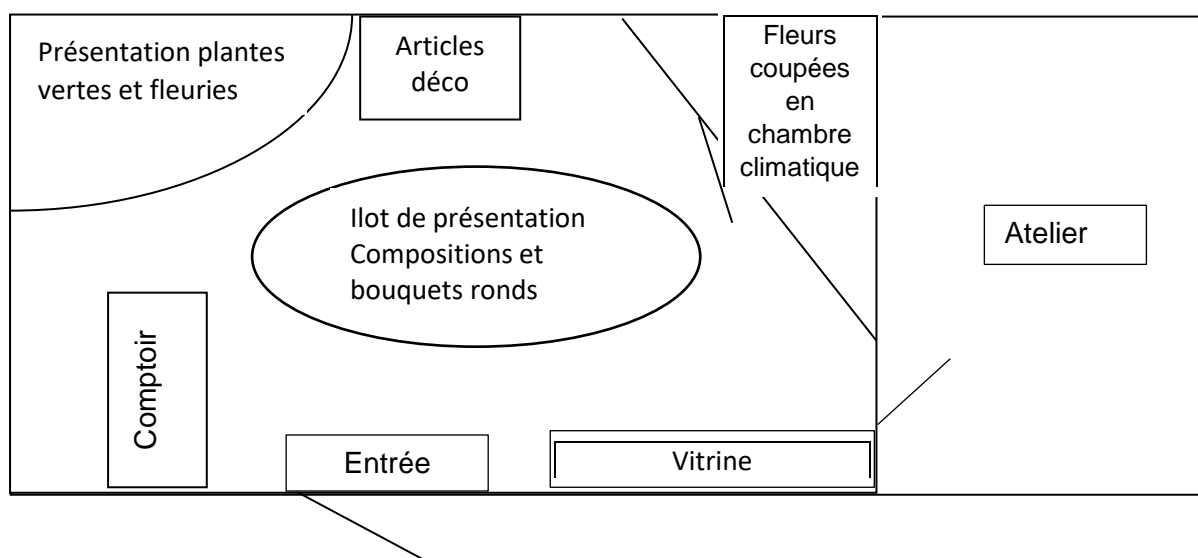
Vous travaillez chez un artisan fleuriste de quartier, « **Passionnement Fleurs** », qui possède une boutique au cœur de la ville de Charleville-Mézières, dans une rue très commerçante.

Le responsable, M. VANNIER, dirige une équipe composée de 2 salariés, 2 apprentis CAP et 1 apprenti BP.

La boutique est dotée d'une surface de vente de 60 m² et d'un atelier de fabrication de 20 m².

La zone extérieure, assez conséquente, permet de mettre en avant une partie des produits commercialisés par l'enseigne.

Plan du magasin



CERTIFICAT D'APTITUDE PROFESSIONNELLE FLEURISTE	2006-CAP FLEUR EP1	
EP1 (UP1) : Préparation et confection d'une production florale	Session 2020	
Épreuve écrite : 2 heures 30	Coefficient : 6	Page 2/21

Votre journée commence par l'arrivage de fleurs coupées.

1. **Citer** au moins trois activités à réaliser avant l'arrivage des fleurs coupées.

-
-
-

2. **Indiquer** les opérations nécessaires à effectuer pour vérifier la conformité de la livraison, en présence du livreur.













-
-
-
-

3. **Préciser** ci-dessous les consignes de nettoyage des catégories de végétaux nommées :

Tiges tendres	Tiges ligneuses	Tiges semi-ligneuses	Tiges à latex

Comme lors de chaque nouvelle réception, vous préparez l'étiquetage des végétaux.

4. **Identifier** les végétaux figurants dans le tableau ci-dessous.

			
Nom commun :	Nom commun :	Nom commun :	Nom commun :
Nom d'espèce :		Nom d'espèce :	Nom d'espèce :
			
Nom commun :	Nom commun :	Nom commun :	Nom commun :
Nom d'espèce :	Nom d'espèce :		Nom d'espèce :
			
Nom commun :	Nom commun :	Nom commun :	Nom commun :
Nom d'espèce :		Nom d'espèce :	Nom d'espèce :

CERTIFICAT D'APTITUDE PROFESSIONNELLE FLEURISTE	2006-CAP FLEUR EP1	
EP1 (UP1) : Préparation et confection d'une production florale	Session 2020	
Épreuve écrite : 2 heures 30	Coefficient : 6	Page 4/21

Votre collègue apprenti vous demande s'il doit stocker tous ces végétaux (y compris les végétaux exotiques) en chambre climatique.

5. **Expliquer** les règles de stockage des végétaux exotiques et des autres végétaux :

.....
.....
.....
.....

Vous devez traiter une commande notée dans l'agenda.

- 1 bouquet moyennes tiges pour un anniversaire,
couleurs vives, éclatantes, plutôt champêtre
budget : 30/35 €
Attention pas de fleurs à odeurs incommodantes !
A livrer à Mme Foulon
12 rue des cerisiers
08000 Charleville-Mézières
Tél. 06.23.12.22.30

6. **Proposer** 3 fleurs coupées parmi votre arrivage de la journée (liste des végétaux page 4/21) correspondant à la demande de cette cliente.

-
-
-

7. **Citer** deux associations de couleurs afin d'obtenir un contraste fort.

-
-

CERTIFICAT D'APTITUDE PROFESSIONNELLE FLEURISTE	2006-CAP FLEUR EP1	
EP1 (UP1) : Préparation et confection d'une production florale	Session 2020	
Épreuve écrite : 2 heures 30	Coefficient : 6	Page 5/21

8. **Indiquer** trois exemples de feuillages possibles pour réaliser ce bouquet.

	nom commun	nom d'espèce
1		
2		
3		

Dans une démarche écologique, le client ne souhaite pas d'emballage.

9. **Expliquer** l'utilité d'emballer le bouquet et faire une proposition d'un matériau approprié.

.....

.....

.....

.....

.....

.....

Vous êtes personnellement chargé(e) de livrer ce bouquet à Mme Foulon.

10. **Lister** 3 conseils à lui donner pour prolonger la durée de vie de son bouquet

-
-
-

Elle vous demande ce que contient le sachet accroché à l'emballage.

11. **Préciser** le nom du produit contenu dans le sachet, sa fonction et ses composants :





- Nom du produit :
 - Fonction du produit :
 - Composants :
-

La semaine dernière, vous avez reçu une demande pour un aménagement en plantes pour un hall d'accueil d'un grand hôtel de votre ville.





Le directeur de cet hôtel souhaite des plantes vertes et fleuries (coloris neutres si possible), faciles à entretenir. Il y a cependant une personne à l'hôtel qui est chargée de l'arrosage. Toutes les plantes sont à planter dans le même grand bac.

Vous faites le point sur l'état de votre stock de plantes en faisant l'arrosage. Vous sélectionnez les 5 plantes que vous installerez à l'hôtel.

12. Renseigner les rubriques du tableau suivant.

Plante	Nom commun	Cocher besoins en eau			Plante sélectionnée pour l'hôtel (cocher la bonne réponse)	
		Faible	Modéré	Fort	Oui	Non
Exemple de réponse souhaitée 	Kentia	X				
						
						
						

Plante	Nom commun	Cocher besoins en eau			Plante sélectionnée pour l'hôtel (cocher la bonne réponse)	
		Faible	Modéré	Fort	Oui	Non
						
						
						
						
						

Plante	Nom commun	Cocher besoins en eau			Plante sélectionnée pour l'hôtel (cocher la bonne réponse)	
		Faible	Modéré	Fort	Oui	Non
						
						
						
						

13. **Justifier** votre choix de plantes pour l'hôtel :

.....




.....

.....

.....


Lors de l'inventaire de votre stock de plantes, vous constatez quelques anomalies.

14. **Identifier** dans le tableau suivant les symptômes, parasites ou maladies et **indiquer** le traitement préconisé pour chacune de ces anomalies.

	Symptôme/parasite/ Maladie	Traitement préconisé
		
		
		

Dans le hall d'accueil de l'hôtel, vous observez une cloison végétalisée de mousse d'Islande. Elle sert de séparation entre l'accueil et la zone détente. Afin de mettre en avant l'hôtel qui va bientôt accueillir des mariages, vous suggérez au directeur un fleurissement de cette cloison.


Exemples de cloisons végétalisées en mousse d'Islande :



Observer la documentation architecturale ci-dessous :



1. Batiment administratif
Minoru Yamasaki



2. Hall d'hôtel




3. Hall d'école
Brenac & Gonzalez



4. Facade bois
24H Architecture



5. Maison en béton
Karina Wiciak



6. Pavillon
Santiago Calatrava



7. Opéra
Ma Yansong



8. Auditorium
Santiago Calatrava

15. **Cocher** dans le tableau ci-dessous les caractéristiques visuelles de chaque document (2 réponses attendues par visuel) :



	1	2	3	4	5	6	7	8
Orientation								
Vertical								
Rayonnant								
Concentrique								
Type de ligne								
Droit								
Courbe								

16. **Proposer** dans les cadres de la page suivante (13/21) deux solutions différentes de fleurissement de la cloison végétalisée. Les végétaux pourront être fixés à l'aide de fils bindwire ou tontinés selon l'espèce.

Respecter le cahier des charges suivant :

- **Choisir** pour chaque proposition une orientation (vertical, rayonnant ou concentrique) et **sélectionner** un type de ligne (droit ou courbe) observés ;
- **Utiliser** 4 ou 5 des végétaux que vous trouverez dans le document 1 page 16/21 ;
- **Respecter** les proportions des végétaux par rapport à la cloison en se référant à la silhouette donnée.
- **Annoter** les croquis avec le nom des végétaux

CERTIFICAT D'APTITUDE PROFESSIONNELLE FLEURISTE	2006-CAP FLEUR EP1	
EP1 (UP1) : Préparation et confection d'une production florale	Session 2020	
Épreuve écrite : 2 heures 30	Coefficient : 6	Page 12/21



Proposition 1

Orientation :

Type de ligne :

Proposition 2


Orientation :

Type de ligne :

CERTIFICAT D'APTITUDE PROFESSIONNELLE FLEURISTE	2006-CAP FLEUR EP1	
EP1 (UP1) : Préparation et confection d'une production florale	Session 2020	
Épreuve écrite : 2 heures 30	Coefficient : 6	Page 13/21

17. **Choisir** une des deux propositions de fleurissement de cloison et **indiquer** son numéro.

- La **réaliser** en volume et en couleur.
- **Respecter** les couleurs naturelles des végétaux




Proposition N°

CERTIFICAT D'APTITUDE PROFESSIONNELLE FLEURISTE	2006-CAP FLEUR EP1	
EP1 (UP1) : Préparation et confection d'une production florale	Session 2020	
Épreuve écrite : 2 heures 30	Coefficient : 6	Page 14/21

Document 1



Lierre panaché



Orchidée phalaenopsis



Clématite



Mitsumata



Fleur de coton



Amarante



Vanda



Saule tortueux



Jasmin



Scindapsus



Noisetier tortueux



Xanadu


CERTIFICAT D'APTITUDE PROFESSIONNELLE FLEURISTE	2006-CAP FLEUR EP1	
EP1 (UP1) : Préparation et confection d'une production florale	Session 2020	
Épreuve écrite : 2 heures 30	Coefficient : 6	Page 15/21

De retour en boutique, vous êtes affecté(e) à la vente pour l'après-midi.

Une cliente observe un bel hibiscus devant votre boutique. Elle aimerait en disposer un sur sa terrasse pour cet été. Elle souhaite en savoir davantage sur la fleur qu'elle trouve magnifique.

Vous lui présentez une fleur et lui apportez les informations demandées.

18. **Légender** le schéma de la fleur d'hibiscus.



19. **Préciser** la fonction principale d'une fleur.

.....

20. **Identifier** la substance de couleur jaune visible sur la photo.

.....

21. **Cocher** le type de fécondation relatif à la fleur d'hibiscus :





- directe croisée

Justifier votre réponse :





CERTIFICAT D'APTITUDE PROFESSIONNELLE FLEURISTE	2006-CAP FLEUR EP1	
EP1 (UP1) : Préparation et confection d'une production florale	Session 2020	
Épreuve écrite : 2 heures 30	Coefficient : 6	Page 16/21

Au moment de choisir un feuillage pour agrémenter son bouquet, une autre cliente vous interroge sur les caractéristiques de végétaux présentés.

22. **Identifier** les caractéristiques des feuilles du tableau ci-dessous (cocher les réponses correctes).

				
Feuille	<input type="checkbox"/> simple <input type="checkbox"/> composée	<input type="checkbox"/> simple <input type="checkbox"/> composée	<input type="checkbox"/> simple <input type="checkbox"/> composée	<input type="checkbox"/> simple <input type="checkbox"/> composée
Nervation	<input type="checkbox"/> pennée <input type="checkbox"/> palmée <input type="checkbox"/> parallèle	<input type="checkbox"/> pennée <input type="checkbox"/> palmée <input type="checkbox"/> parallèle	<input type="checkbox"/> pennée <input type="checkbox"/> palmée <input type="checkbox"/> parallèle	<input type="checkbox"/> pennée <input type="checkbox"/> palmée <input type="checkbox"/> parallèle

En fin d'après-midi, vous recevez Diane et Clément dont le mariage a lieu la semaine prochaine. Ils ont déjà commandé l'ensemble des fleurs chez vous, mais désirent ajouter une boutonnière et un petit bouquet de corsage pour les témoins. Ils ont une préférence pour les végétaux suivants :

			
astilbe	lisianthus	chrysanthème santini	asparagus plumosus

Vous commencez à réfléchir à la fabrication des montages floraux.

23. **Lister** les matériels, outils, matériaux nécessaires à la réalisation de la boutonnière et du bouquet de corsage.

-
-
-
-

24. **Relier** la technique de montage adaptée aux végétaux sélectionnés :

lisianthus	■	■ en crochet
chrysanthème santini	■	■ en boucle
asparagus plumosus	■	■ en croix

CERTIFICAT D'APTITUDE PROFESSIONNELLE FLEURISTE	2006-CAP FLEUR EP1	
EP1 (UP1) : Préparation et confection d'une production florale	Session 2020	
Épreuve écrite : 2 heures 30	Coefficient : 6	Page 18/21


La future mariée vous demande de faire un croquis afin de visualiser le bouquet de corsage achevé.

25. **Réaliser** le croquis dans l'encadré ci-dessous.

Respecter le cahier des charges suivant :

- **Utiliser** entre 1 et 3 fleurs de chaque espèce choisie par la future mariée
- **Accrocher** le bouquet à la bretelle de la robe de soirée de la témoin
- **Adapter** le type de végétal à la morphologie de la mariée
- **Utiliser** un point focal apparent


Votre croquis doit être suffisamment détaillé afin de reconnaître les fleurs sélectionnées par la future mariée.



CERTIFICAT D'APTITUDE PROFESSIONNELLE FLEURISTE	2006-CAP FLEUR EP1	
EP1 (UP1) : Préparation et confection d'une production florale	Session 2020	
Épreuve écrite : 2 heures 30	Coefficient : 6	Page 19/21

En fin de journée, votre responsable vous demande de gérer l'ensemble des déchets collectés.

26. **Trier** les déchets suivants dans les bacs correspondant à leur nature. Relier le déchet à la poubelle correspondante.



CERTIFICAT D'APTITUDE PROFESSIONNELLE FLEURISTE	2006-CAP FLEUR EP1
EP1 (UP1) : Préparation et confection d'une production florale	Session 2020
Épreuve écrite : 2 heures 30	Coefficient : 6
	Page 20/21

En réalisant le tri des déchets, vous vous blessez avec un morceau de verre souillé de terre.

27. Préciser deux soins à réaliser immédiatement.

-
-

28. Indiquer quel risque vous encourez suite à cette blessure.

.....

29. Indiquer la précaution à prendre pour limiter ce risque.

.....

Vous avez en charge la fermeture du magasin.

30. Citer au moins trois tâches à réaliser avant la fermeture de la boutique.

-
-
-

CERTIFICAT D'APTITUDE PROFESSIONNELLE FLEURISTE	2006-CAP FLEUR EP1	
EP1 (UP1) : Préparation et confection d'une production florale	Session 2020	
Épreuve écrite : 2 heures 30	Coefficient : 6	Page 21/21